



Kolegij : **GRAĐEVNA STATIKA I i GRAĐEVNA STATIKA II**  
Nastavnik : **doc. dr. Vlaho Akmadžić**  
Asistent : **mr. sc. Mladen Kustura**

Usmenom dijelu ispita predmeta Građevna statika I i Građevna statika II mogu pristupiti sljedeći studenti:

Građevna statika I		Građevna statika II
GRUPA "A"	GRUPA "B"	
<ul style="list-style-type: none"><li>• IVAN RADIĆ</li><li>• IVAN VLADIĆ</li><li>• MARIO DAMJANOVIĆ</li><li>• MATEJA LOZANČIĆ</li><li>• ANTE DODIG</li><li>• DAMIR TUČIĆ</li><li>• JOSIP JELČIĆ</li><li>• HRVOJE DŽIDA</li><li>• VELIMIR IVANKOVIĆ</li><li>• MARTINA DADIĆ</li><li>• DRAŽĆANA MARJANOVIĆ</li><li>• BOJAN JUKIĆ</li><li>• BOJAN FRŽOVIĆ</li></ul>	<ul style="list-style-type: none"><li>• MIRKO HERCEG</li><li>• KRISTINA MARKOVIĆ</li><li>• IVANA PAVKOVIĆ</li><li>• ADRIANO DRPIĆ</li><li>• SONJA VOJVODIĆ</li><li>• FRANKA PETRIC</li><li>• LUCIJANA MILIČEVIĆ</li><li>• IVO KREŠIĆ</li><li>• LJUBICA KRASIĆ</li><li>• TONI LOZIĆ</li><li>• MATE IVANČEV</li><li>• MIJAT LUČIĆ</li><li>• ANTEA LONČAR</li><li>• TONI VRANJIĆ</li></ul>	<ul style="list-style-type: none"><li>• MARINA VISKOVIĆ</li><li>• DAVID LJUBIĆ</li><li>• DRAŽEN ŠITUM</li><li>• NIKOLINA BOŠNJAK</li><li>• IVAN OSTOJIĆ</li><li>• IVANA LUČIĆ</li><li>• ANA PRIMORAC</li><li>• JOSIP FILIPOVIĆ</li><li>• DAVOR MATKOVIĆ</li></ul>

Usmeni ispit će se održati u **četvrtak 29.03.2012.** godine prema sljedećem rasporedu:

- U 14.00 sati Građevna statika II
- U 15.00 sati Građevna statika I – grupa "A"
- U 15.45 sati Građevna statika I – grupa "B"

Na polaganje usmenog dijela ispita treba **donijeti kompletno urađene zadatke** sa pismenog dijela ispita.

Radovi se mogu pogledati u ponedjeljak 27.03.2012. od 13.00 do 13.30 sati, s tim da na pregled radova treba **donijeti kompletno urađene zadatke** sa pismenog dijela ispita.

Asistent:

U Mostaru, 26.02.2012. godine.

\_\_\_\_\_  
mr. sc. Mladen Kustura



GRUPA "A"

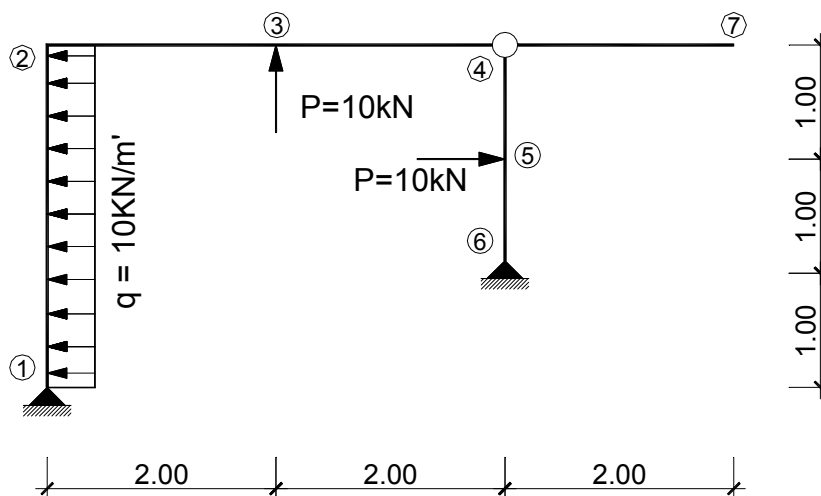
Ime i prezime	
Broj indeksa	

Vrijeme za izradu ispitnih zadataka: 8.30 – 11.00 sati

ZADACI

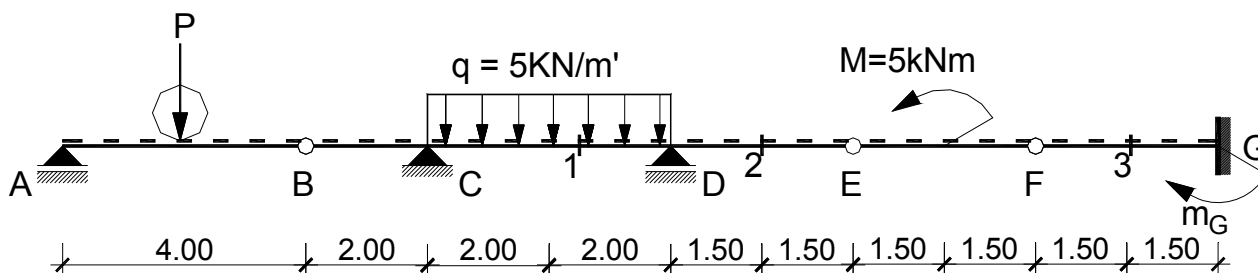
ZADATAK 1.

Riješiti zadani nosač i nacrtati dijagrame M, T i N.  
(50 bodova)



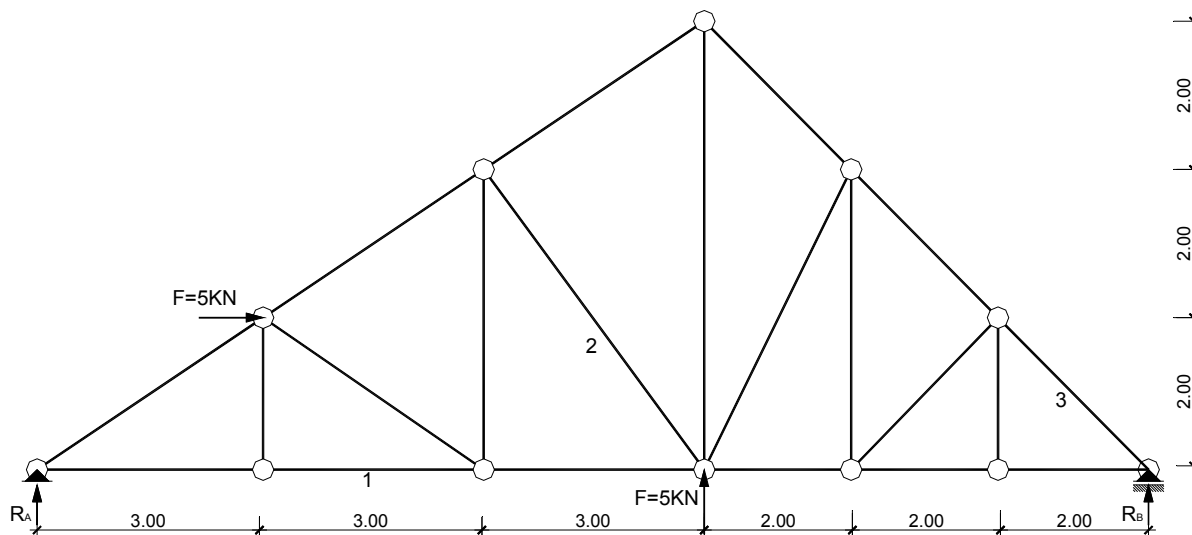
**ZADATAK 2.**

Integracijom utjecajnih linija odrediti reakcije u točkama B, C, D, kao i vrijednosti  $T_1$  i  $M_2$ .  
(35 bodova)



**ZADATAK 3.**

Odrediti sile u štapovima 1, 2 i 3.  
(15 bodova)





GRUPA "B"

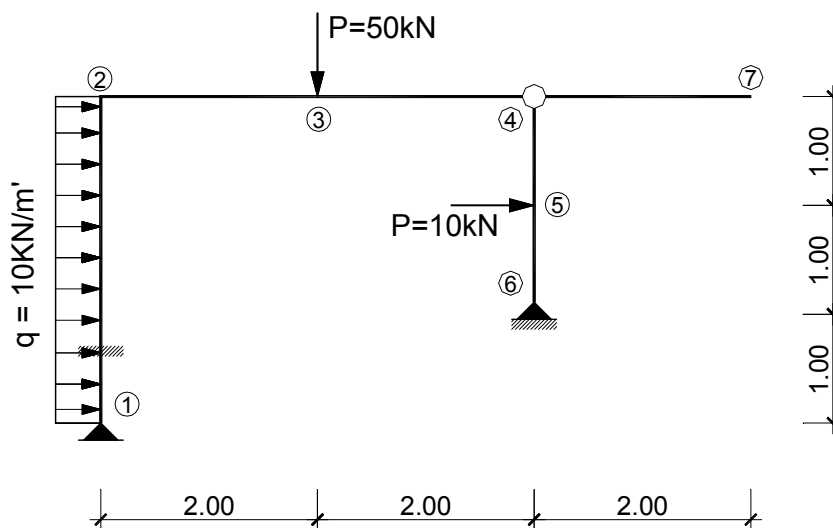
Ime i prezime	
Broj indeksa	

Vrijeme za izradu ispitnih zadataka: 8.30 – 11.00 sati

ZADACI

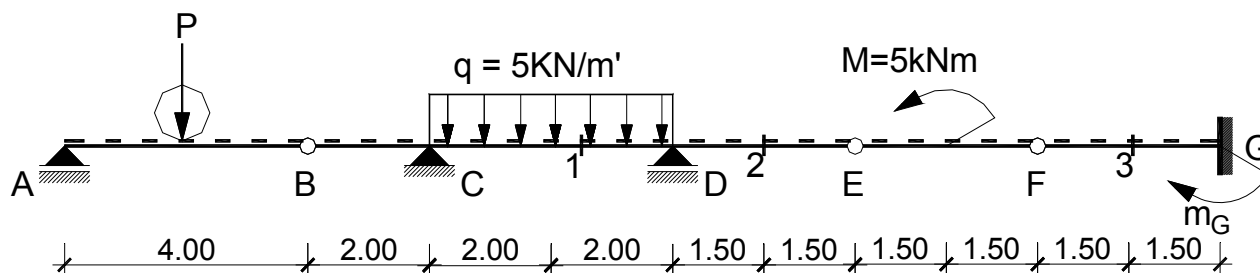
ZADATAK 1.

Riješiti zadani nosač i nacrtati dijagrame M, T i N.  
(50 bodova)



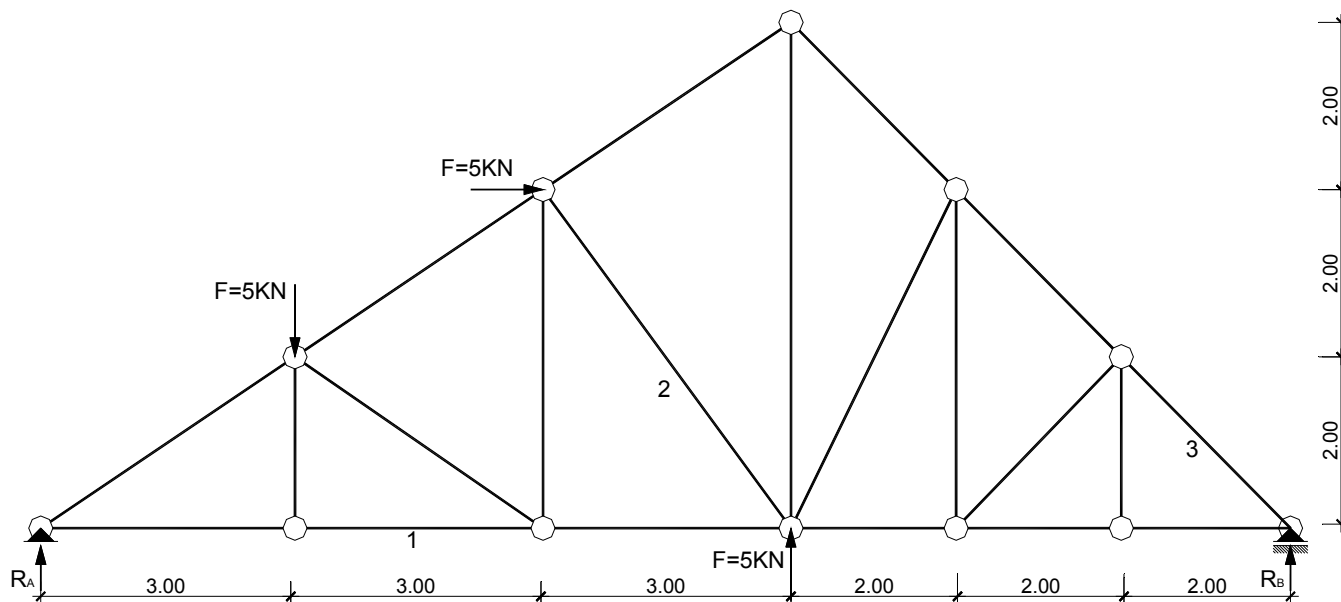
**ZADATAK 2.**

Integracijom utjecajnih linija odrediti reakcije u točkama A, G, kao i vrijednosti  $M_1$  i  $T_3$ .  
(35 bodova)



**ZADATAK 3.**

Odrediti sile u štapovima 1, 2 i 3.  
(15 bodova)





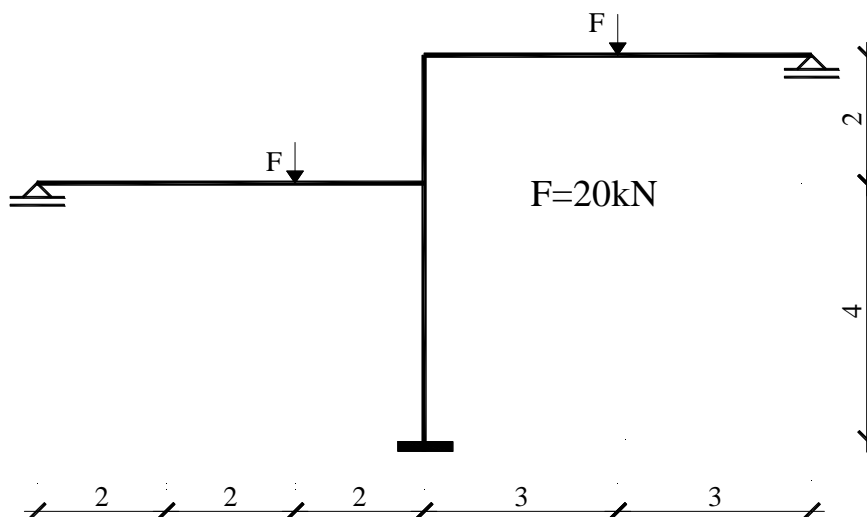
Ime i prezime	
Broj indeksa	

Vrijeme za izradu ispitnih zadataka: 8.30 – 11.00 sati

## ZADACI

### ZADATAK 1.

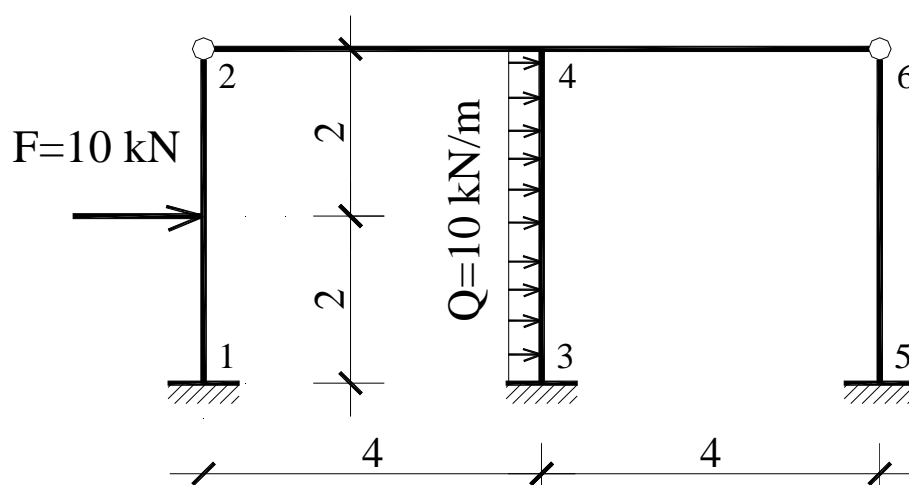
Metodom sila riješiti zadani nosač i nacrtati dijagrame M, T i N.  
(50 bodova)





**ZADATAK 2.**

Tehničkom metodom pomaka riješiti zadani nosač i nacrtati dijagrame M, T i N.  
(50bodova)



Prag prolaznosti 60 BODOVA